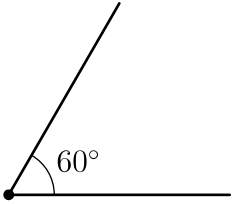
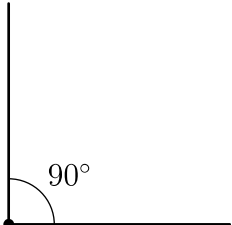
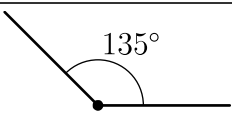
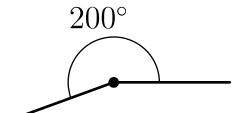
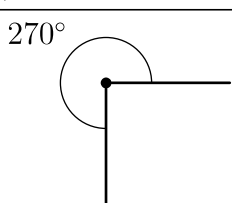
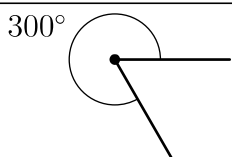
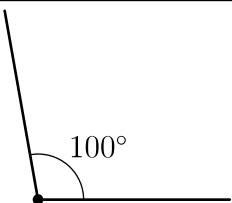
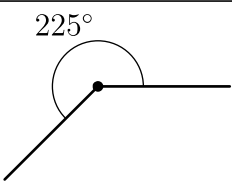
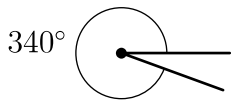
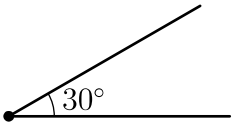
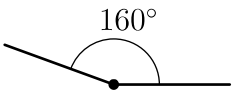


Enunciados

Dados los siguientes ángulos, rellena la tabla; la representación gráfica que se pide es aproximada y en las demás columnas hay que responder «sí» o «no».

	Ángulo	Representación	Agudo	Obtuso	Convexo	Cóncavo
①	60°					
②	90°					
③	135°					
④	200°					
⑤	270°					
⑥	300°					
⑦	100°					
⑧	225°					
⑨	340°					
⑩	30°					
⑪	160°					

Soluciones

	Ángulo	Representación	Agudo	Obtuso	Convexo	Cóncavo
①	60°		sí	no	sí	no
②	90°		no	no	sí	no
③	135°		no	sí	sí	no
④	200°		no	no	no	sí
⑤	270°		no	no	no	sí
⑥	300°		no	no	no	sí
⑦	100°		no	sí	sí	no
⑧	225°		no	no	no	sí
⑨	340°		no	no	no	sí
⑩	30°		sí	no	sí	no
⑪	160°		no	sí	sí	no