

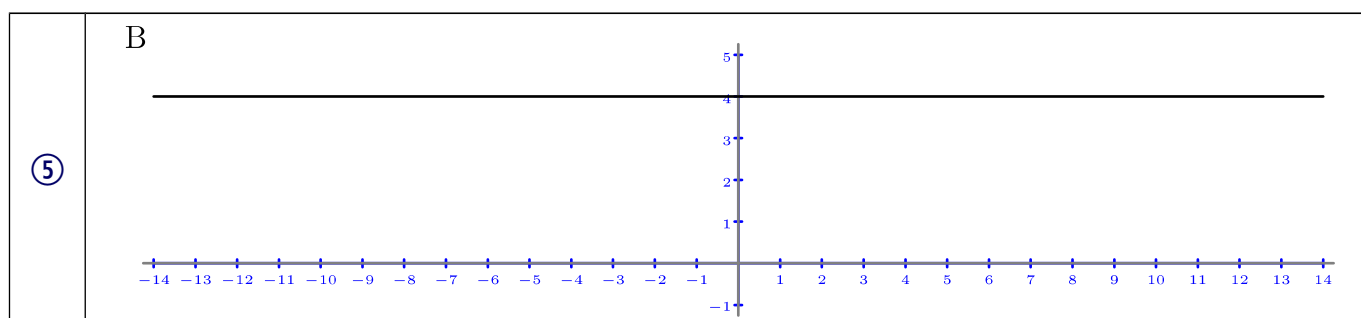
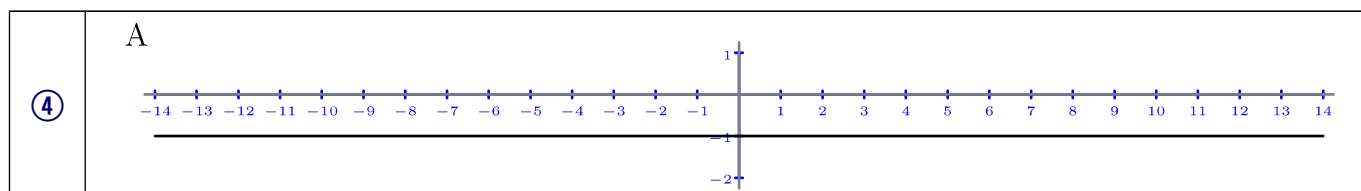
Enunciados

Escribe la expresión analítica de las siguientes funciones constantes dadas por sus tablas de valores:

①	Variable independiente	x	-4	-3	-2	-1	0	1	2	3	4
	Variable dependiente	y	7	7	7	7	7	7	7	7	7
②	Variable independiente	x	-4	-3	-2	-1	0	1	2	3	4
	Variable dependiente	y	-11	-11	-11	-11	-11	-11	-11	-11	-11
③	Variable independiente	x	-4	-3	-2	-1	0	1	2	3	4
	Variable dependiente	y	0,75	0,75	0,75	0,75	0,75	0,75	0,75	0,75	0,75

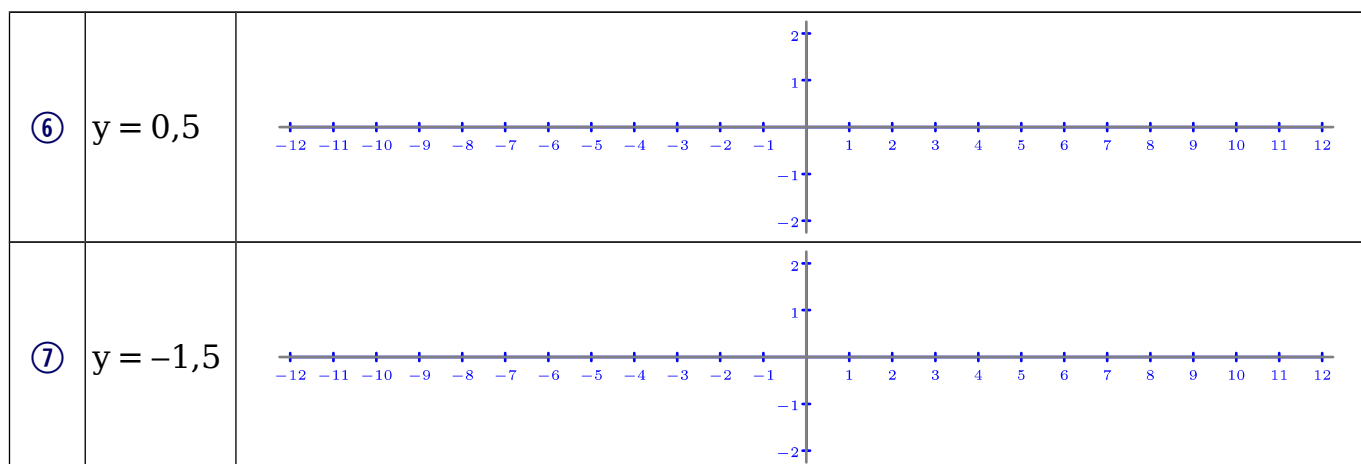
Enunciados

Escribe la expresión analítica de las siguientes funciones constantes dadas por sus representaciones gráficas; la letra que hay en cada cuadro arriba a la izquierda es el nombre de la función.



Enunciados

Representa gráficamente las siguientes funciones constantes dadas por su expresión analítica:



Soluciones

① $y = 7$

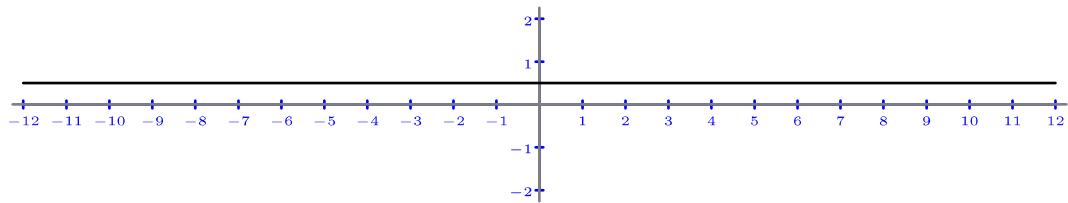
② $y = -11$

③ $y = 0,75$

④ $A(x) = -1$

⑤ $B(x) = 4$

⑥



⑦

